


ARHITEKTONSKE KONSTRUKCIJE

1. razred

ARHITEKTONSKI TEHNIČAR



Nastavna jedinica:

Vježba – tlocrti i pročelja jednostavne građevine

Nastavna cjelina: Arhitektonski nacrti i projekti

Sastavila: Danijela Đurić

Vježba - Crtanje i kotiranje tlocrta jednostavne građevine



Zadatak:

- ▶ Na temelju izometrijskog prikaza i tlocrta prizemlja zgrade nacrtaj u mjerilu 1:100:
 1. Tlocrt kata
 2. Tlocrt krova
 3. Sva četiri pročelja

Zadano:

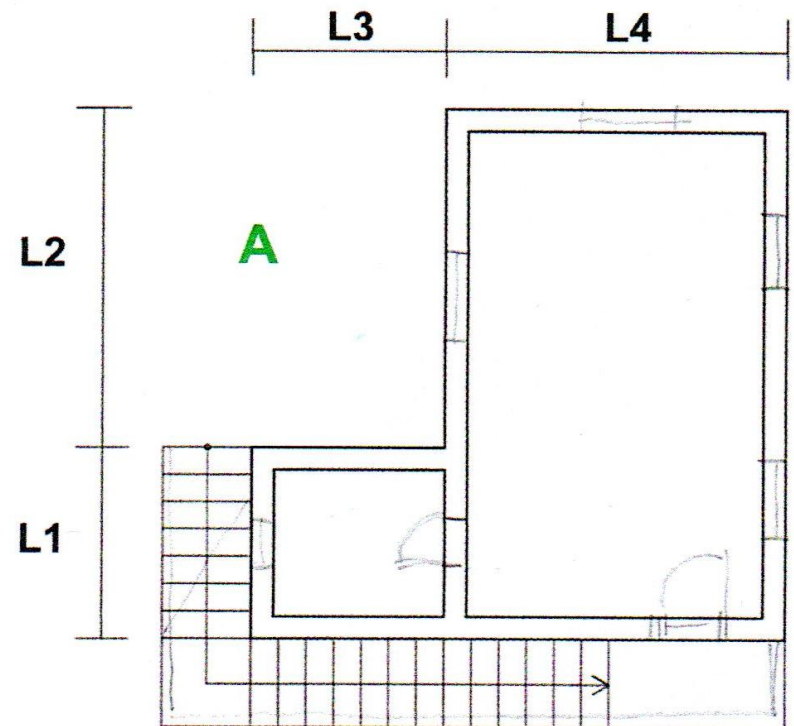
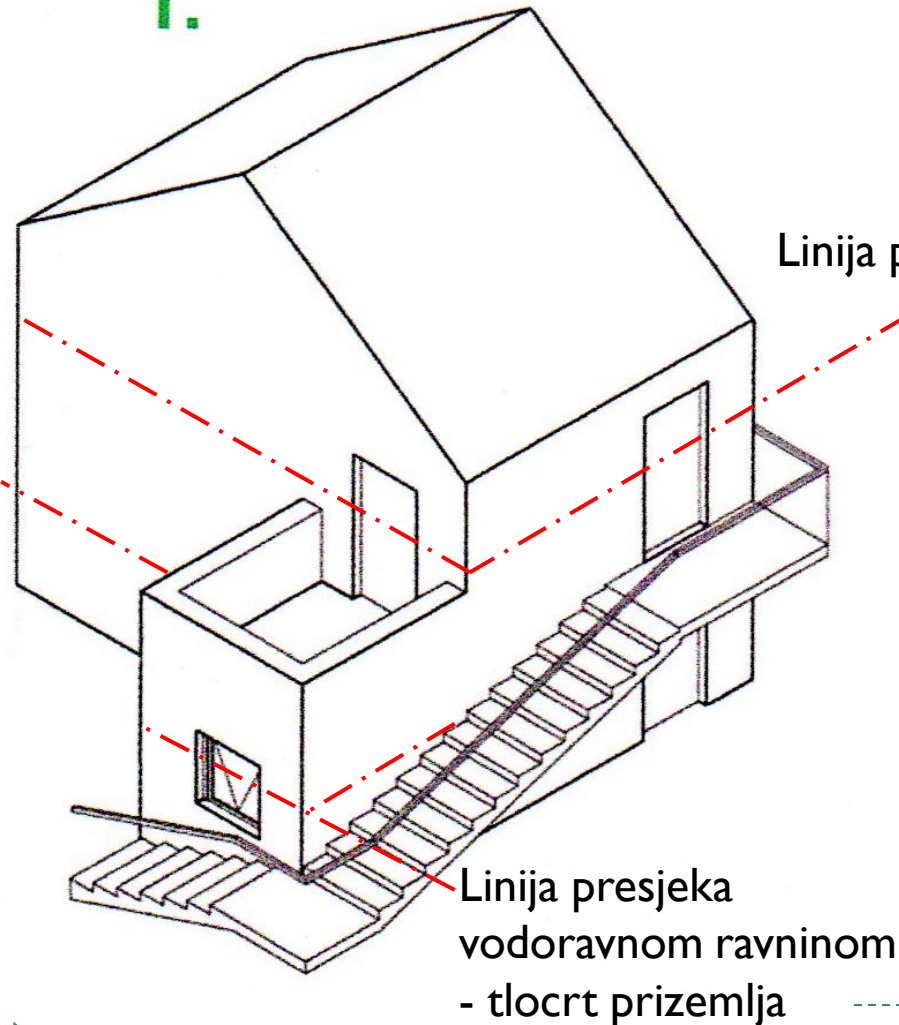
- $L_1 = 210\text{cm}$, $L_2 = 420\text{cm}$, $L_3 = 200\text{cm}$, $L_4 = 400\text{cm}$
- širina stepenica 90cm, visina gazišta 15cm
- Nagib krova 45°
- Širina zida 30cm
- Širina prozora 120/140cm
- Širina vrata 100/210cm



Vježba - Crtanje i kotiranje tlocrta jednostavne građevine



1.



Vježba - Crtanje i kotiranje tlocrta jednostavne građevine

